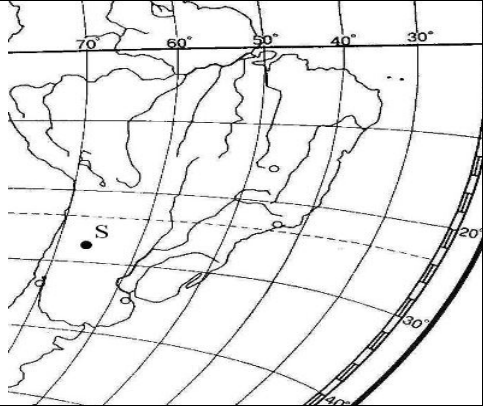



Відповіді на завдання тесту з географії

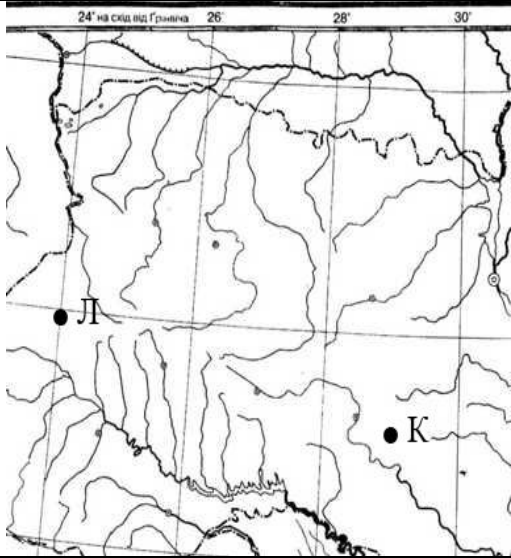
№	Зміст завдання та відповідь	Джерела
Завдання 1 – 40 мають по чотири варіанти відповіді, серед яких лише один правильний		
1	<p>Укажіть твердження, яке є визначенням поняття «географія».</p> <p>Відповідь: наука про природу земної поверхні, розміщення населення і господарства.</p>	<p>Скуратович О.Я., Круглик Л.І., Коваленко Р.Р. Загальна географія: підруч. для 6 кл – К.: Зодіак-ЕКО, 2005. – 319с. § 1</p>
2	<p>Укажіть напрямок обертання Землі навколо своєї осі.</p> <p>Відповідь: із заходу на схід</p>	<p>Скуратович О.Я., Круглик Л.І., Коваленко Р.Р. Загальна географія: підруч. для 6 кл – К.: Зодіак-ЕКО, 2005. – 319с. §5</p> <p>Пестушко В.Ю., Сасихов В.О., Уварова Г.Є. Географія материків і океанів: підруч. для 7 кл. серед.шк. – К.: Абрис, 2003. – 376с. §2</p>

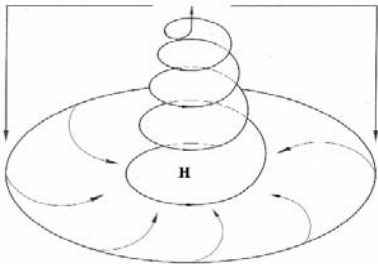
3	<p>Визначте географічні координати точки S.</p> <p>Відповідь: 27° пд. ш. і 66° зх. д.</p>	 <p>Скуратович О.Я., Круглик Л.І., Коваленко Р.Р. Загальна географія: підруч. для 6 кл – К.: Зодіак-ЕКО, 2005. – 319с. §8</p>
4	<p>Що є основним чинником утворення яру?</p> <p>Відповідь: робота текучих вод</p>	<p>Скуратович О.Я., Круглик Л.І., Коваленко Р.Р. Загальна географія: підруч. для 6 кл – К.: Зодіак-ЕКО, 2005. – 319 с. §12</p> <p>Шищенко П.Г., Муніч Н.В. Фізична географія України: Підруч. для 8 кл. загальноосвіт. навч. закл. – К.: Зодіак – ЕКО, 2005. – 256 с. §39</p>
5	<p>Якому поняттю відповідає визначення: «стадія щорічного водного режиму річок, який характеризується найбільшою водністю, високим і тривалим підняттям рівня води, що супроводжується затопленням заплави»?</p> <p>Відповідь: повінь</p>	<p>Скуратович О.Я., Круглик Л.І., Коваленко Р.Р. Загальна географія: підруч. для 6 кл – К.: Зодіак-ЕКО, 2005. – 319с. § 17</p>
6	<p>Які ґрунти є найбільш поширеними в зоні лісостепів помірного поясу.</p> <p>Відповідь: чорноземи</p>	<p>Скуратович О.Я., Круглик Л.І., Коваленко Р.Р. Загальна географія: підруч. для 6 кл – К.: Зодіак-ЕКО, 2005. – 319с. § 41</p> <p>Пестушко В.Ю., Сасихов В.О., Уварова Г.Є. Географія материків і океанів:</p>

		<p>підруч. для 7 кл. серед.шк. – К.: Абрис, 2003. – 376с. § 58</p> <p>Атлас для 7 класу «Географія материків та океанів». ДНВП «Картографія»,</p> <p>Атлас для 7 класу «Географія материків та океанів», ППТ</p>
7	<p>Що сприяє розвитку «парникового ефекту»?</p> <p>Відповідь: збільшення кількості вуглекислого газу в атмосфері</p>	<p>Скуратович О.Я., Круглик Л.І., Коваленко Р.Р. Загальна географія: підруч. для 6 кл – К.: Зодіак-ЕКО, 2005. – 319с. §66</p> <p>Топузов О.М., Тименко Л.В. Економічна і соціальна географія світу: Підруч. для 10 кл. загальноосвіт. навч. закладів. – К.: Зодіак-ЕКО, § 14</p>
8	<p>Укажіть течію, що переміщується над Південноатлантичним, Західноіндійським хребтами та Східнотихоокеанським підняттям.</p> <p>Відповідь: Західних вітрів</p>	<p>Скуратович О.Я., Круглик Л.І., Коваленко Р.Р. Загальна географія: підруч. для 6 кл – К.: Зодіак-ЕКО, 2005. – 319с. §23</p> <p>Пестушко В.Ю., Сасихов В.О., Уварова Г.Є. Географія материків і океанів: підруч. для 7 кл. серед.шк. – К.: Абрис, 2003. – 376с. §8</p> <p>Атлас для 7 класу «Географія материків та океанів».</p> <p>ППТ, ДНВП «Картографія»</p>
9	<p>Визначте <u>неправильне</u> твердження про природу материка.</p> <p>Відповідь: Антарктида – найбільшим хижаком є білий ведмідь</p>	<p>Пестушко В.Ю., Сасихов В.О., Уварова Г.Є. Географія материків і океанів: підруч. для 7 кл. серед.шк. – К.: Абрис, 2003. – 376с. §22,30, 49</p>
10	Для якої природної країни Євразії характерні мусонні ліси?	Пестушко В.Ю., Сасихов В.О., Уварова

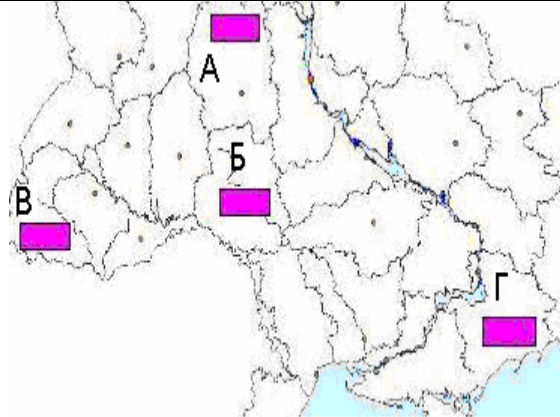
	Відповідь: Східна Азія	Г.Є. Географія материків і океанів: підруч. для 7 кл. серед.шк. – К.:Абрис, 2003. – 376с. §57, 59, 60
11	Укажіть озеро, що є стічним. Відповідь: Ері	Пестушко В.Ю., Сасихов В.О., Уварова Г.Є. Географія материків і океанів: підруч. для 7 кл. загально освіт. навч. закладів. – К.: Освіта, Шкільна освіта, 2003. – 256с. §25, 31, 45, 56 Скуратович О.Я., Круглик Л.І., Коваленко Р.Р. Загальна географія: підруч. для 6 кл – К.: Зодіак-ЕКО, 2005. – 319с. § 18
12	Укажіть правильне твердження про населення материка Австралія. Відповідь: найвищий рівень урбанізації серед усіх материків	Пестушко В.Ю., Сасихов В.О., Уварова Г.Є. Географія материків і океанів: підруч. для 7 кл. серед.шк. – К.:Абрис, 2003. – 376с. § 33, 39 Атлас для 10-11 класів. Економічна і соціальна географія світу, ІПТ.





13	<p>На фрагменті космічного знімка Середземномор'я буквами позначені чотири райони. Оберіть букву (А, Б, В чи Г), якою позначений район найінтенсивнішого зрошувального землеробства.</p> <p>Відповідь: В</p>		<p>Пестушко В.Ю., Сасихов В.О., Уварова Г.Є. Географія материків і океанів: підруч. для 7 кл. серед.шк. – К.:Абрис, 2003. – 376с. §25</p> <p>Корнєєв В.П., Герасимчук В.М., Пічугін Б.В. Географія материків і океанів: підруч. для 7 кл. загальноосвіт. навч. закладів. – К.: Освіта, Шкільна освіта, 2003. – 256с. с.81 – 82, 89 – 91.</p>
14	<p>На якому материку засновано заповідники: Ноатак, Долина Смерті, Великий Каньйон?</p> <p>Відповідь: Північна Америка</p>		<p>Пестушко В.Ю., Сасихов В.О., Уварова Г.Є. Географія материків і океанів: підруч. для 7 кл. серед.шк. – К.: Абрис, 2003. – 376с. § 42 – 47</p>
15	<p>Із якою країною Україна має морську ділянку державного кордону.</p> <p>Відповідь: Румунія</p>		<p>«Географія України». Атлас для 8 – 9 класів ДНВП «Картографія» «Географія України». Атлас для 8 – 9 класів Інститут передових технологій.</p>
16	<p>Розгляньте картосхему. Визначте місцевий час у пункті Л, якщо у пункті К місцевий час складає у цей момент 11 годин 04 хвилини.</p>		<p>Заставний Ф.Д. Фізична географія України. Підруч. для 8 кл. – К.: 2003, - 239с.</p> <p>Масляк П.О., Шищенко П.Г. Географія України: Підруч. для 8 – 9 кл. серед. шк.</p>

	<p>Відповідь: 10 год 44 хв</p>		<p>К.: Зодіак-ЕКО, 2004. – 432 с. Чернов Б. В. Фізична географія України, підр для 8 кл, - К.: Освіта, 2002. – 254 с. Гілецький Й.Р. Географія України (Фізична географія з основами загального землезнавства): Підруч. для 8 класу. – Львів: ВНТЛ-Класика, 2003. – 150 с. §4</p>
17	<p>На якій платформі розташований Український кристалічний щит?</p> <p>Відповідь: Східноєвропейська</p>	<p>Заставний Ф.Д. Фізична географія України. Підруч. для 8 кл. – К.: 2003, - 239с §15</p>	<p>Заставний Ф.Д. Фізична географія України. Підруч. для 8 кл. – К.: 2003, - 239с §15</p>
18	<p>До якої ери відноситься антропогеновий геологічний період?</p> <p>Відповідь: кайнозойська</p>	<p>Гілецький Й.Р. Географія України (Фізична географія з основами загального землезнавства): Підруч. для 8 класу. – Львів: ВНТЛ-Класика, 2003. – 150 с. §11</p>	<p>Гілецький Й.Р. Географія України (Фізична географія з основами загального землезнавства): Підруч. для 8 класу. – Львів: ВНТЛ-Класика, 2003. – 150 с. §11</p>
19	<p>Яким умовним знаком на карті позначають родовища корисних копалин: Бориславське, Бугруватівське, Долинське</p> <p>Відповідь: ▲</p>	<p>Скуратович О.Я., Круглик Л.І., Коваленко Р.Р. Загальна географія: підруч. для 6 кл – К.: Зодіак-ЕКО, 2005. – 319с. §13 Чернов Б. В. Фізична географія України, підр. для 8 кл, - К.: Освіта, 2002. – 254 с §15</p>	<p>Скуратович О.Я., Круглик Л.І., Коваленко Р.Р. Загальна географія: підруч. для 6 кл – К.: Зодіак-ЕКО, 2005. – 319с. §13 Чернов Б. В. Фізична географія України, підр. для 8 кл, - К.: Освіта, 2002. – 254 с §15</p>

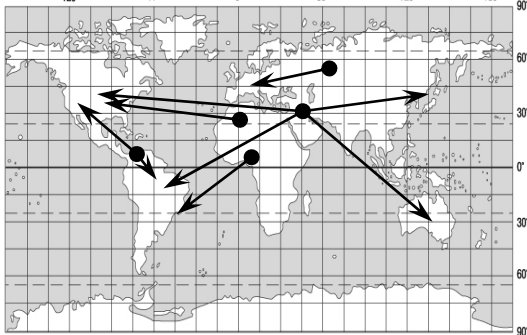
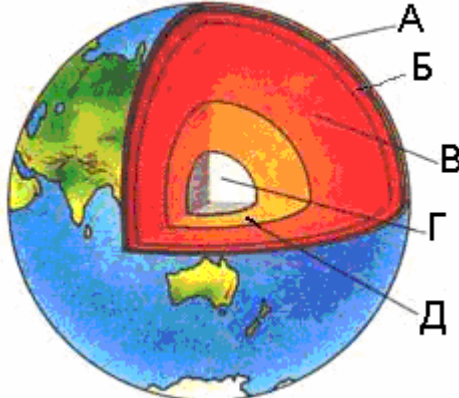
20	<p>Знайдіть <u>неправильне</u> твердження щодо використання метеорологічного приладу.</p> <p>Відповідь: барометром вимірюють випаровуваність</p>	<p>Скуратович О.Я., Круглик Л.І., Коваленко Р.Р. Загальна географія: підруч. для 6 кл – К.: Зодіак-ЕКО, 2005. – 319с.</p>
21	<p>Розгляньте схеми. Визначте, яка із них відображає процес, що формує в Україні взимку мінливу вітряну погоду з відлигами і опадами. Відповідь:</p> 	<p>Пестушко В.Ю., Сасихов В.О., Уварова Г.Є. Географія материків і океанів: підруч. для 7 кл. серед.шк. – К.: Абрис, 2003. – 376с §6</p> <p>Масляк П.О., Шищенко П.Г. Географія України: підруч. Для 8 – 9 кл. серед. шк. К.: Зодіак-ЕКО, 2004. – 432с. «Клімат і кліматичні ресурси»</p> <p>Кобернік С.Г., Скуратович О.Я. Географія материків і океанів: підруч. для 7 кл. загальноосвіт. навч. закладів. – К.: Навчальна книга, 2005 – 319с. §7</p>
22	<p>До басейну якої річки відносяться притоки: Тетерів, Рось, Псел, Інгулець?</p> <p>Відповідь: Дніпро</p>	<p>Заставний Ф.Д. Фізична географія України: підруч. для 8 кл. – К.:, 2003, - 239с., §24</p> <p>Чернов Б.В. Фізична географія України, підруч. Для 8 кл, - к.: Освіта, 2002. – 254с., §23</p>
23	<p>Укажіть форму організації виробництва, що має визначення: «поєднання на одному</p>	<p>Дітчук І. Л., Заставецька О. В., Ткач</p>

	<p><i>підприємстві всіх стадій переробки певної сировини, що забезпечує мало- або безвідходність виробництва».</i></p> <p>Відповідь: комбінування</p>	<p>Д.В. Географія України: навч. посібник. – Тернопіль: Навчальна книга – Богдан, 2003, 2006. – 168 с.</p> <p>Тема 3 «Промисловість» с.53</p>
24	<p>Визначте правильний варіант ланцюга «галузь → підприємство → основний чинник розміщення підприємства» для столиці України.</p> <p>Відповідь: машинобудування → авіазавод КНТК «Антонов» → кваліфіковані кадри</p>	<p>Масляк П.О. Економічна і соціальна географія України: підруч.для 9 кл. загально освіт. навч. зал. – Педагогічна преса , 2005. – 288с.</p> <p>с. 234, 239, 151, 123,</p> <p>Заставний Ф.Д. Економічна і соціальна географія України: Підруч. для 9 кл. – К.: Форум, 2003. – 239с.</p> <p>с.90,91</p>
25	<p>Укажіть порт на Азовському морі.</p> <p>Відповідь: Генічеськ</p>	<p>Заставний Ф.Д. Економічна і соціальна географія України: Підруч. для 9 кл. – К.: Форум, 2003. – 239с. §29.</p> <p>Сиротенко А.Й. Економічна і соціальна географія України: Підруч. для 9 кл. загальноосв. навч. закл. – К.: Освіта, 2001. – 222 с. §53</p> <p>Атлас « Географія України» для 8 – 9 класів</p> <p>Інститут передових технологій, 2003</p>

26	<p>Визначте, який із позначених буквами на картосхемі регіонів України за агрокліматичними умови найбільш придатний для вирощування соняшника.</p> <p>Відповідь: Г</p>		Масляк П.О. Економічна і соціальна географія України: підруч.для 9 кл. загально освіт. навч. зал. – Педагогічна преса , 2005. – 288с §42
27	<p>Укажіть варіант, де обидва виробництва є спеціалізацією Північно-Східного, Донецького та Придніпровського районів.</p> <p>Відповідь: важке машинобудування, металургія</p>	Заставний Ф.Д. Економічна і соціальна географія України: Підруч. для 9 кл. – К.: Форум, 2003. – 239с. §34, 35, 36	
28	<p>Визначте, які транспортні шляхи було прокладено між Львовом і Перемишлем у 1861 р. та між Одесою і Балтою у 1865 р.</p> <p>Відповідь: залізничні колії</p>	Масляк П.О. Економічна і соціальна географія України: підруч.для 9 кл. загально освіт. навч. зал. – Педагогічна преса , 2005. – 288с §46	
29	<p>Укажіть <u>неправильне</u> твердження щодо зовнішньоекономічних зв'язків України.</p> <p>Відповідь: 10% імпорتنих витрат припадає на нафту та природний газ</p>	Заставний Ф.Д. Економічна і соціальна географія України: Підруч. для 9 кл. – К.: Форум, 2003. – 239с. §32	
30	<p>У якому рядку вказані міста, що стали курортами завдяки лікувальним властивостям мінеральних джерел.</p> <p>Відповідь: Слов'янськ, Моршин, Саки</p>	Заставний Ф.Д. Економічна і соціальна географія України: Підруч. для 9 кл. – К.: Форум, 2003. – 239с. §31 Атлас «Географія України» для 8 – 9 класів, ДНВП «Картографія», 2003	

31	<p>На фотографіях зображено визначні об'єкти чотирьох столиць країн світу. Укажіть об'єкт тієї столиці, яка за кількістю населення не є найбільшим містом у своїй країні.</p> <div style="display: flex; justify-content: space-around;">     </div> <p style="text-align: center;"> А Б В Г </p> <p>Відповідь: В</p>	<p>Яценко Б. П. Економічна і соціальна географія зарубіжних країн: Підруч. для 10 кл.– К.: Форум, 2004. – с. 248 с. § 56</p> <p>Топузов О.М., Тименко Л.В. Економічна і соціальна географія світу: Підруч. для 10 кл. загальноосвіт. навч. закладів. – К.: Зодіак-ЕКО, §29</p>
32	<p>Обчисліть, якою стала кількість населення 100-мільйонної країни через рік, якщо показники руху населення у цьому році були такими: народжуваність – 35 ‰, смертність – 18 ‰, еміграція – 3 ‰, імміграція – 1 ‰.</p> <p>Відповідь: 101,5 млн. осіб</p>	<p>Яценко Б.П. Економічна і соціальна географія зарубіжних країн: Підруч. для 10 кл. – К.: Форум, 2004. – с. 248 с. § 8</p> <p>Топузов О.М., Тименко Л.В. Економічна і соціальна географія світу: Підруч. для 10 кл. загальноосвіт. навч. закладів. – К.: Зодіак-ЕКО, §5</p>
33	<p>У якому рядку вказано країну, що не входить до складу ЄС?</p> <p>Відповідь: Австрія, Швейцарія, ФРН</p>	<p>Яценко Б.П. Економічна і соціальна географія зарубіжних країн: Підруч. для 10 кл. – К.: Форум, 2004. – с. 248 с. §30</p>
34	<p>Який регіон Росії спеціалізується на нафтовидобутку та нафтопереробці?</p> <p>Відповідь: Західний Сибір</p>	<p>Яценко Б.П. Економічна і соціальна географія зарубіжних країн: Підруч. для 10 кл. К.: Форум, 2004. – с. 248 с. § 41</p>
35	<p>Укажіть, завдяки якому чиннику хімічна промисловість США, Японії, ФРН знаходиться в авангарді світового господарства.</p>	<p>Яценко Б.П. Економічна і соціальна географія зарубіжних країн: Підруч. для 10 кл–</p>


	Відповідь: високий рівень розвитку науково-дослідної бази	К.: Форум, 2004. – с. 248 с. . §18, 31,48, 55
36	Визначте <u>не</u> правильне твердження щодо лідерства країни в Латинській Америці. Відповідь: Еквадор – за імпортом бананів	Яценко Б.П. Економічна і соціальна географія зарубіжних країн: Підруч. для 10 кл. – К.: Форум, 2004. – с. 248 с. §59
37	Країна, природні умови якої дозволяють вирощувати в промислових масштабах цукровий буряк і цукрову тростину. Відповідь: США.	Яценко Б.П. Економічна і соціальна географія зарубіжних країн: Підруч. для 10 кл. . – К.: Форум, 2004. – с. 248 с. §55
38	У якому рядку вказані курорти Африки. Відповідь: Хургада, Шарм-ель-Шейх, Сейшельські острови.	Яценко Б.П. Економічна і соціальна географія зарубіжних країн: Підруч. для 10 кл. – .К.: Форум, 2004. – с. 248 §15 Економічна і соціальна географія. Атлас для 10-11 класів Інститут передових технологій .


39	<p>На картосхемі зображені головні напрямки міжнародних вантажопотоків</p> <p>Відповідь: нафти</p> 	Яценко Б.П. Економічна і соціальна географія зарубіжних країн: Підруч. для 10 кл. – К.: Форум, 2004. – с. 248 с. §21, Економічна і соціальна географія світу Атлас для 10-11 класів	
40	<p>Укажіть державу, на території якої знаходяться визнані ЮНЕСКО об'єкти культурно-історичної спадщини: храм Сонця в Конараку, мавзолей Тадж-Махал.</p> <p>Відповідь: Індія.</p>	Яценко Б.П. Економічна і соціальна географія зарубіжних країн: Підруч. для 10 кл. – К.: Форум, 2004. – с. 248 с. § 50	
<p>У завданнях 41 – 50 до кожного з чотирьох рядків інформації позначених цифрами, необхідно вибрати один правильний варіант, що позначений буквою.</p>			
41	<p>Установіть відповідність між шарами внутрішньої будови Землі та буквами, якими вони позначені на малюнку.</p> <p>Відповідь: астеносфера – Б земна кора – А внутрішнє ядро – Г мантія – В</p>		Скуратович О.Я., Круглик Л.І., Коваленко Р.Р. Загальна географія: підруч. для 6 кл – К.: Зодіак-ЕКО, 2005. – 319с. §10
42	<p>Установіть відповідність між типами клімату та кліматограмами.</p>		Пестушко В.Ю., Сасихов В.О., Уварова Г.Є. Географія материків і океанів:

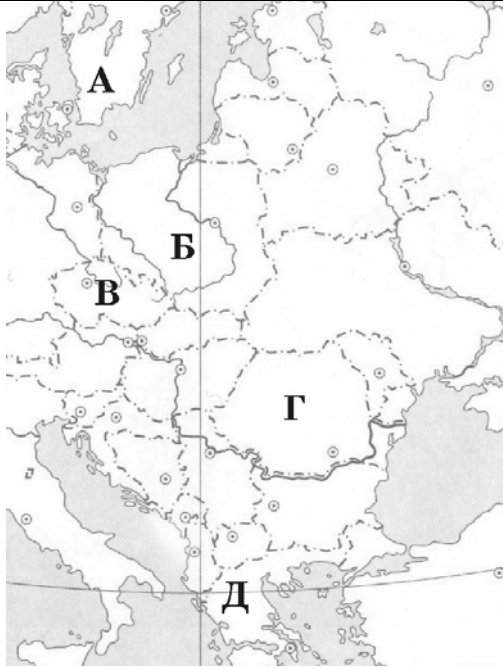
	<p>Відповідь: субтропічний середземноморський Північної півкулі – Г морський помірний Північної півкулі – В субекваторіальний Південної півкулі – А тропічний пустельний Північної півкулі – Б</p>	<p>підруч. для 7 кл. серед.шк. – К.: Абрис, 2003. – 376с. §6, 7 Атлас для 7 класу «Географія материків та океанів». Інститут передових технологій</p>
43	<p>Установіть відповідність між назвами творів, де подано географічний опис України та часом їхнього написання.</p> <p>Відповідь: «Географія» в 17-и томах грецького мислителя Страбона – І ст. до н. е.</p> <p>«Труды этнографическо-статистической экспедиции въ Западно-Русскій край» етнографа Павла Чубинського – 1872 – 1879 рр.</p> <p>«Українська географічна енциклопедія» у 3-х томах (за редакцією члена-кореспондента НАН України, географа Олександра Маринича) – 1989 – 1993 рр.</p> <p>«Географія України і сумежних земель» картографа Володимира Кубійовича – 1932 р.</p>	<p>Кобернік С.Г., Скуратович О.Я. Географія материків і океанів: Підруч. для 7 кл. загальноосвіт. навч. закладів. – К.: Навчальна книга, 2005. – 319 с.</p> <p>Гілецький Й.Р. Географія України (Фізична географія з основами загального землезнавства): Підруч. для 8 класу. – Львів: ВНТЛ-Класика, 2003. – 150 с. §4</p> <p>Корнев В. П., Герасимчук В. М., Пічугін Б. В. Географія материків і океанів: підруч. для 7 кл. загальноосвіт. навч. закладів. – К.: Освіта, Шкільна освіта, 2003. – 256с. с.5 – 6</p>
44	<p>Знайдіть відповідність між рівнинами на території України та формами земної поверхні, що характерні для цих рівнин.</p> <p>Відповідь: Поліська низовина – моренні горби</p>	<p>Чернов Б.В. Фізична географія України, підруч. Для 8 кл, - к.:Освіта,2002. – 254с. §12</p>

	<p>Придніпровська низовина – соляні куполи</p> <p>Донецька височина – терикони</p> <p>Причорноморська низовина – поди, блюдця</p>	<p>Сиротенко А.Й. Економічна і соціальна географія України: Підруч. для 9 кл. загальноосв. навч. закл. – К.: Освіта, 2001. – 222 с. §14</p> <p>Атлас «Географія України» для 8 – 9 класів</p> <p>ДНВП «Картографія»</p>
--	---	---

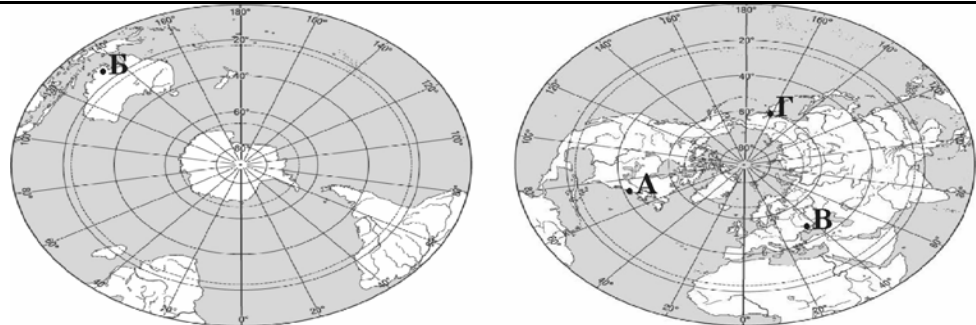
45	<p>Розгляньте космічний знімок. Установіть відповідність між інформацією про певні акваторії (позначені цифрами), та акваторіями (позначена на космічному знімку буквами).</p> <p>Відповідь: біля берегів України улітку тут найтепліша вода, проте взимку море в цьому районі може замерзати – Б солоність води в цьому районі вища 18‰ – Г шельфова зона тут вузька, глибини моря швидко збільшуються неподалік від від берега – В червону водорість (філофору) збирають тут у великій кількості – А</p>	<p>Заставний Ф.Д. Фізична географія України. Підруч. для 8 кл. – К.:, 2003, - 239с. § 28</p> <p>Чернов Б.В. Фізична географія України, підруч. Для 8 кл, - к.:Освіта,2002. – 254с. §48, 49</p>
----	---	--



46	<p>Відповідь: Установіть відповідність між національними меншинами України та районами їхнього компактного проживання, що позначені на картосхемі буквами. Відповідь:</p> <p>болгари – Д кримські татари – Г угорці – Б поляки – А</p>		<p>Сиротенко А.Й. Економічна і соціальна географія України: Підруч. для 9 кл. загальноосв. навч. закл. – К.: Освіта, 2001. – 222 с. §6</p> <p>Масляк П.О. Економічна і соціальна географія України: підруч.для 9 кл. загально освіт. навч. зал. – Педагогічна преса , 2005. – 288с §11</p>
47	<p>Установіть відповідність між назвами атомних станцій та їхніми містами – супутниками</p> <p>Відповідь: Хмельницька – Нетішин Рівненська – Кузнецовськ Запорізька – Енергодар Південноукраїнська –Южноукраїнськ</p>		<p>Заставний Ф.Д. Економічна і соціальна географія України: Підруч. для 9 кл. – К.: Форум, 2003. – 239с. §15</p>

48	<p>Установіть відповідність між областями України та туристськими об'єктами розташованими в них.</p> <p>Відповідь:</p> <p>Тернопільська – печера «Кришталева» Івано-Франківська – г.Говерла Черкаська – Дендропарк «Софіївка» Волинська – Луцький замок</p>	<p>Масляк П.О. Економічна і соціальна географія України: підруч.для 9 кл. загально освіт. навч. зал. – Педагогічна преса , 2005. – 288с §46</p> <p>Сиротенко А.Й. Економічна і соціальна географія України: Підруч. для 9 кл. загальноосв. навч. закл. – К.: Освіта, 2001. – 222 с. §53</p>	
49	<p>Розгляньте картосхему. Установіть відповідність між інформацією, що характеризує ту чи іншу державу, та державами, що позначені на карті буквами.</p> <p>Відповідь:</p> <p>населення країни утворює окрему групу індоєвропейської мовної сім'ї; панівною є православна віра; столиця – одне з найдавніших міст світу – Д</p> <p>у країні переважає гірський рельєф; її територією протікає друга за довжиною річка Європи; 49 % населення зайнято в промисловості – Г</p> <p>країна - член ЄС, але не входить до НАТО; багата на лісові ресурси; виробляє автомобілі «Вольво»; населення мешкає переважно на півдні країни – А</p> <p>країна з населенням 38,6 млн. осіб; експортує вугілля, мідь, продукцію машинобудування й АПК; має значний</p>		<p>Яценко Б.П. Економічна і соціальна географія зарубіжних країн: Підруч. для 10 кл. . – Прок-Бізнес, 2004 §6, 10, 20, 28, 30</p> <p>Атлас для 10 – 11 класів. «Економічна і соціальна географія світу»ДНВП «Картографія» 2003-2007рр.</p>

	товарообіг з Україною (>1 млрд. доларів США) – Б		
50	<p>Установіть відповідність між назвами міжнародних організацій та наведеними про них фактами.</p> <p>Відповідь: ООН – серед членів-засновників організації була Україна (на той час УРСР); НАФТА – об'єднує США, Канаду, Мексику для реалізації угоди про зону вільної торгівлі; СОТ – економічна організація (понад 150 країн-членів), що регулює правила міжнародної торгівлі. ОПЕК – організація країн, що є експортерами нафти.</p>	Яценко Б.П. Економічна і соціальна географія зарубіжних країн: Підруч. для 10 кл. – Прок-Бізнес, 2004 §6, 20	
У завданнях 51 – 60 необхідно розташувати запропоновані факти у правильній послідовності.			
51	<p>Розташуйте географічні об'єкти в тій послідовності, в якій вони були відкриті європейцями.</p> <p>Відповідь: мис Доброї Надії – Магелланова протока – Нова Зеландія – Антарктичний півострів</p>	<p>Скуратович О.Я., Круглик Л.І., Коваленко Р.Р. Загальна географія: підруч. для 6 кл – К.: Зодіак-ЕКО, 2005. – 319с. § 2</p> <p>Пестушко В.Ю., Сасихов В.О., Уварова Г.Є. Географія материків і океанів: підруч. для 7 кл. серед.шк. – К.: Абрис, 2003. – 376с. § 21, 30, 40</p>	
52	<p>Розташуйте позначені на обох півкулях буквами географічні об'єкти в порядку настання в цих точках нової доби</p> <p>Відповідь: Г – Б – В – А</p>	Скуратович О.Я., Круглик Л.І., Коваленко Р.Р. Загальна географія: підруч. для 6 кл – К.: Зодіак-ЕКО, 2005. – 319с.	

		
53	<p>Розташуйте послідовно назви водних мас Індійського океану (від острова Ява до берегів Антарктиди).</p> <p>Відповідь: екваторіальні – тропічні – помірні – полярні</p>	<p>Пестушко В.Ю., Сасихов В.О., Уварова Г.Є. Географія материків і океанів: підруч. для 7 кл. серед.шк. – К.:Абрис, 2003. – 376с. §8</p> <p>Географія материків і океанів. Атлас для 7 класу ДНВП «Картографія»</p>
54	<p>Розташуйте послідовно (з півночі на південь) природні зони Східноєвропейської рівнини.</p> <p>Відповідь: тайга – мішані ліси – лісостеп – степ</p>	<p>Пестушко В.Ю., Сасихов В.О., Уварова Г.Є. Географія материків і океанів: підруч. для 7 кл. серед.шк. – К.: Абрис, 2003. – 376с. §57,58</p>
55	<p>Розташуйте послідовно одиниці регіональної класифікації ландшафтів України починаючи від найбільшої за рангом.</p> <p>Відповідь: країна – зона – край – область</p>	<p>Чернов Б.В. Фізична географія України, підруч. для 8 кл, - к.:Освіта,2002. – 254с §31</p> <p>Заставний Ф.Д. Фізична географія України.Підруч. для 8 кл. – К., 2003, - 239с. §37</p> <p>Шищенко П.Г., Муніч Н.В. Фізична географія України: Підруч. для 8 кл. загальноосвіт. навч. закл. – К.: Зодіак – ЕКО, 2005. – 256 с. §41</p> <p>Атлас</p>
56	<p>Установіть послідовність перетину природних областей Українських Карпат, якщо рухатися у напрямку з північного сходу на південний захід</p>	<p>Заставний Ф.Д. Фізична географія</p>

	Відповідь: Зовнішньокарпатська – Вододільно-Верховинська – Полонинсько-Чорногірська – Вулканічно-Карпатська.	України.Підруч. для 8 кл. – К.:, 2003, - 239с. §37 Шищенко П.Г., Муніч Н.В. Фізична геогафія України: Підруч. для 8 кл. загальноосвіт. навч. закл. – К.: Зодіак – ЕКО, 2005. – 256 с. §48																				
57	Розташуйте послідовно види транспорту України за показником вантажообігу (починаючи від найменшого). Відповідь: річковий – автомобільний – залізничний – трубопровідний	Заставний Ф.Д. Економічна і соціальна географія України: Підруч. для 9 кл. – К.: Форум, 2003. – 239с §28-30. Масляк П.О. Економічна і соціальна географія України: підруч.для 9 кл. загально освіт. навч. зал. – Педагогічна преса , 2005. – 288с §48																				
58	Розташуйте країни за показником ВВП на душу населення, починаючи від найменшого. Відповідь: Ефіопія – Китай – Польща – Канада.	Яценко Б.П. Економічна і соціальна географія зарубіжних країн: Підруч. для 10 кл. – Прок-Бізнес, 2004 §5, 65 Атлас «Економічна і соціальна географія світу»ДНВП «Картографія» 2003-2007pp.																				
59	Обчисліть середню густоту (щільність) населення країн зазначених у таблиці. Розташуйте їх послідовно від найбільшого до найменшого показника. <table border="1"><thead><tr><th></th><th>Країна</th><th>Кількість населення (млн. осіб)</th><th>Площа (тис.км²)</th></tr></thead><tbody><tr><td>А</td><td>Індія</td><td>1092</td><td>3288</td></tr><tr><td>Б</td><td>Бразилія</td><td>186</td><td>8512</td></tr><tr><td>В</td><td>Нідерланди</td><td>16,5</td><td>41,9</td></tr><tr><td>Г</td><td>Єгипет</td><td>79</td><td>1001</td></tr></tbody></table> Відповідь: Нідерланди —Індія – Єгипет –Бразилія.		Країна	Кількість населення (млн. осіб)	Площа (тис.км ²)	А	Індія	1092	3288	Б	Бразилія	186	8512	В	Нідерланди	16,5	41,9	Г	Єгипет	79	1001	Яценко Б.П. Економічна і соціальна географія зарубіжних країн: Підруч. для 10 кл. . – Прок-Бізнес, 2004 §8 Атлас «Економічна і соціальна географія світу»ДНВП «Картографія» 2003-2007pp.
	Країна	Кількість населення (млн. осіб)	Площа (тис.км ²)																			
А	Індія	1092	3288																			
Б	Бразилія	186	8512																			
В	Нідерланди	16,5	41,9																			
Г	Єгипет	79	1001																			

60	<p>Установіть у хронологічній послідовності події (починаючи від найдавнішої), наслідком яких є антропогенні зміни в природі.</p> <p>Відповідь: початок переселення із Америки Європу рослин-ендемів, що стали поширеними сільськогосподарськими культурами – початок переселення тварин із Європи в Австралію, що стало справжнім лихом для місцевої фауни– початок будівництва каскаду водосховищ на Дніпрі, що призвело до втрати значних площ родючої землі – прийняття законів України «Про охорону навколишнього середовища» та «Про зону надзвичайної екологічної ситуації», спрямованих на поліпшення екологічної ситуації в державі</p>	<p>Пестушко В.Ю., Сасихов В.О., Уварова Г.Є. Географія материків і океанів: підруч. для 7 кл. серед.шк. – К.:Абрис, 2003. – 376с. §32,34</p> <p>Шищенко П.Г., Муніч Н.В. Фізична географія України: Підруч. для 8 кл. загальноосвіт. навч. закл. – К.: Зодіак – ЕКО, 2005. – 256 с. §57</p> <p>Масляк П.О. Економічна і соціальна географія України: підруч.для 9 кл. загально освіт. навч. закл. – Педагогічна преса , 2005. – 288с §24,</p> <p>Яценко Б.П. Економічна і соціальна географія зарубіжних країн: Підруч. для 10 кл. . – Прок-Бізнес, 2004.</p>
----	---	---